

# **L1 Économie-Gestion**

## **COMPLÉMENTS DE MATHÉMATIQUES REMISE À NIVEAU**

**Vincent Jalby**

**Année universitaire 2023-2024**



# Calcul dans $\mathbb{R}$

## 1 Les nombres réels

### Définition 1.1

A la base, il y a les **entiers naturels**. Il s'agit des nombres qui servent à « compter » :

$$\mathbb{N} = \{0, 1, 2, 3, 4, 5, \dots\}$$

Si on rajoute les entiers négatifs, on obtient les **entiers relatifs** :

$$\mathbb{Z} = \{\dots, -5, -4, -3, -2, -1, 0, 1, 2, 3, 4, 5, \dots\}$$

Les **nombres rationnels** (qui incluent les nombres décimaux) sont ceux qui s'écrivent comme le quotient de deux entiers relatifs :

$$\mathbb{Q} = \{p/q : p, q \in \mathbb{Z}, q \neq 0\}$$

Les **nombres irrationnels** sont ceux, issus d'équations ou de la géométrie, qui ne peuvent pas s'écrire comme quotient d'entiers relatifs. C'est le cas de  $\sqrt{2}$ ,  $\sqrt{3}$ ,  $\pi$ ,  $e$ , ... L'ensemble des nombres rationnels et irrationnels est appelé ensemble des **nombres réels** et est noté  $\mathbb{R}$ .

On a bien sûr

$$\mathbb{N} \subset \mathbb{Z} \subset \mathbb{Q} \subset \mathbb{R}$$

Un entier naturel est donc aussi un rationnel ou un réel.

### Remarque

Pour chacun de ces ensembles, il est possible de se limiter aux nombres positifs ou nuls, en ajoutant un + en indice et aux nombres non nuls en ajoutant une \* en exposant. De même pour les nombres négatifs, on met un - en indice.

$$\mathbb{N}^* = \{1, 2, 3, \dots\} \quad \mathbb{Q}_+ = \{x \in \mathbb{Q} : x \geq 0\} \quad \mathbb{R}_+^* = \{x \in \mathbb{R} : x > 0\} \quad \mathbb{R}_- = \{x \in \mathbb{R} : x \leq 0\}$$

### Exercice

Déterminer la *nature* de chacun de ces nombres :

$$-3 \quad 5 \quad 2/5 \quad -0.33 \quad 6/3 \quad \sqrt{\pi} \quad e^2 \quad 3.14$$

### Définition 1.2

L'**opposé** d'un nombre réel  $a$  est  $-a$ . Il vérifie

$$a + (-a) = 0$$

### Exemples

L'opposé de 3 est -3. On a bien  $3 + (-3) = 0$ . Mais l'opposé de -5 est 5 car  $(-5) + 5 = 0$ .

### Exercice

Déterminer l'opposé des réels suivants :

$$-1.3 \quad \frac{1}{2} \quad \frac{2}{-3} \quad -a \quad 1 - 2a$$

où  $a \in \mathbb{R}$ .

### Définition 1.3

L'inverse d'un nombre réel non nul  $a$  est  $a^{-1} = \frac{1}{a}$ . Il vérifie

$$a \times \frac{1}{a} = 1$$

### Exemple

L'inverse de 2 est  $\frac{1}{2}$  car  $2 \times \frac{1}{2} = 1$ .

### Exercice

Déterminer l'inverse des réels suivants :

$$-5 \quad \frac{1}{3} \quad \frac{2}{5} \quad \frac{-1}{2} \quad \frac{1}{1-a} \quad \frac{1}{1+\frac{1}{a}}$$

où  $a \in \mathbb{R}$ .

## 2 Puissances

### Définition 2.1

Pour  $n \in \mathbb{N}^*$  un entier naturel non-nul, la **puissance  $n$ -ième** d'un réel  $a$  est

$$a^n = \underbrace{a \times a \times \cdots \times a}_{n \text{ fois}}$$

On pose aussi

$$a^{-n} = \frac{1}{a^n} \quad \text{lorsque } a \neq 0.$$

Par convention,  $a^0 = 1$  pour  $a \neq 0$  et  $0^0$  n'est pas défini.

### Exemples

On a

$$2^3 = 2 \times 2 \times 2 = 8 \quad 3^0 = 1 \quad 0^3 = 0 \times 0 \times 0 = 0 \quad 3^{-2} = \frac{1}{3^2} = \frac{1}{9}$$

### Exercice

Calculer

$$10^3 \quad (-5)^2 \quad 4^{-3} \quad (1/4)^3 \quad 0.1^{-1}$$

### Proposition 2.2

Soit  $a$  un réel (non nul) et  $n, p$  deux entiers relatifs. On a

$$a^n a^p = a^{n+p} \quad \frac{a^n}{a^p} = a^{n-p} \quad (a^n)^p = a^{np}$$

### Proposition 2.2 (cont)

Soit  $a$  et  $b$  deux réels (non nuls) et  $n$  un entier relatif. On a

$$(ab)^n = a^n b^n \quad \left(\frac{a}{b}\right)^n = \frac{a^n}{b^n}$$

#### Exercice

Vérifier chacune de ces formules en prenant  $a = 2$ ,  $b = 3$ ,  $n = 8$ ,  $p = 4$ .

#### Exercice

Calculer (simplifier) les expressions suivantes :

$$a^n a^{3n} \quad \frac{x^5}{x^2} \quad \frac{a^{p+1}}{a^{p-1}} \quad a^3 b^2 a^2 b^{-1} \quad \frac{(xy)^n}{x^{n-1} y^{n-2}}$$

## 3 Racines $n$ -ièmes

### Définition 3.1

Soit  $a$  un réel positif. On appelle **racine carrée** de  $a$  le réel positif noté  $\sqrt{a}$  vérifiant

$$(\sqrt{a})^2 = a$$

Pour  $n \in \mathbb{N}^*$ , on appelle **racine  $n$ -ième** de  $a$  le réel noté  $\sqrt[n]{a}$  vérifiant

$$(\sqrt[n]{a})^n = a$$

#### Remarques

1. La racine  $n$ -ième de  $a$  est aussi notée  $a^{1/n}$ . En particulier,  $\sqrt{a} = a^{1/2}$ . En généralisant les formules de calcul sur les puissance, on retrouve bien que

$$(\sqrt[n]{a})^n = (a^{1/n})^n = a^{\frac{1}{n}n} = a^1 = a$$

2. Lorsque  $n$  est *impair*, la racine  $n$ -ième d'un nombre négatif est définie ! Par exemple

$$\sqrt[3]{-27} = -3 \quad \text{car} \quad (-3)^3 = -27$$

#### Exercice

Calculer les racines suivantes

$$\sqrt{16} \quad \sqrt{1/16} \quad \sqrt[3]{-8}$$

### Proposition 3.2

Soit  $a$  et  $b$  deux réels positifs. On a

$$\sqrt{ab} = \sqrt{a}\sqrt{b} \quad \text{et} \quad \sqrt{\frac{a}{b}} = \frac{\sqrt{a}}{\sqrt{b}}$$

Mais, en général,

$$\sqrt{a+b} \neq \sqrt{a} + \sqrt{b}$$

#### Remarque

Ces formules se généralisent aux racines  $n$ -ièmes.

#### Exercice

Calculer (sans machine) les expressions suivantes :

$$\sqrt{25 \times 36} \quad \sqrt{16/9}$$

#### Remarque

On peut alors définir

$$a^{p/q} = (a^p)^{1/q} = (a^{1/q})^p$$

#### Exemple

$$4^{3/2} = (4^{1/2})^3 = 2^3 = 8$$

## 4 Calculs

### Proposition 4.1

La multiplication est distributive par rapport à l'addition :

$$a(b+c) = ab+ac \quad \text{et} \quad (b+c)a = ba+ca$$

#### Remarque

Cette propriété est souvent utilisée de droite à gauche, permettant de *factoriser* une expression :

$$2a+3a = (2+3)a = 5a$$

#### Exercice

Développer les expressions suivantes

$$-2(1-a) \quad (x+1)(x-2) \quad (a-b)^2$$

### Proposition 4.2

On a les identités remarquables suivantes :

$$(a+b)^2 = a^2 + 2ab + b^2 \quad (a-b)^2 = a^2 - 2ab + b^2 \quad (a+b)(a-b) = a^2 - b^2$$

### Exercice

Développer les expressions suivantes

$$(2x - 3)^2 \quad (-x + y)^2 \quad (1 + x)(x - 1) \quad (2 + x)^3$$

Dans les applications mathématiques, on est souvent amené à **factoriser** une expression, c'est-à-dire, transformer une somme en produit. Cela permet, en particulier, d'étudier plus facilement le signe de l'expression (voir plus loin). Pour cela, on peut soit utiliser une identité remarquable soit identifier un terme commun à chacun des termes et le *mettre en facteur* en utilisant la distributivité de la multiplication par rapport à l'addition.

### Exemples

On factorise en utilisant une identité remarquable :

$$x^2 - 4x + 4 = x^2 - 2 \times 2 \times x + 2^2 = (x - 2)^2 \quad x^2 - 9 = x^2 - 3^2 = (x + 3)(x - 3)$$

On factorise en identifiant un facteur commun dans chacun des termes :

$$3x^2 - 2x = \boxed{x} \times 3x + \boxed{x} \times (-2) = \boxed{x}(3x - 2) \quad ax - 2a = \boxed{a}x - 2\boxed{a} = \boxed{a}(x - 2)$$

### Exercice

Factoriser les expressions suivantes :

$$x^3 + x^2y \quad 4x^2 + 4x + 1 \quad x^2y + xy^2 \quad 3x^2 - 12 \quad x^2y + 2xy + y$$

## 5 Fractions

La notation  $\frac{a}{b}$  signifie «  $a$  divisé par  $b$  » où  $a$  et  $b$  sont deux nombres réels avec  $b$  non nul. Ci-dessous, les principales règles de calculs.

Simplification :	$\frac{ac}{bc} = \frac{a}{b}$	$\frac{6}{9} = \frac{2 \times 3}{3 \times 3} = \frac{2}{3}$
Somme 1 :	$\frac{a}{b} + \frac{c}{b} = \frac{a+c}{b}$	$\frac{2}{5} + \frac{4}{5} = \frac{6}{5}$
Somme 2 :	$\frac{a}{b} + \frac{c}{d} = \frac{ad+cb}{bd}$	$\frac{1}{2} + \frac{3}{5} = \frac{1 \times 5 + 3 \times 2}{2 \times 5} = \frac{11}{10}$
Produit :	$\frac{a}{b} \times \frac{c}{d} = \frac{ac}{bd}$	$\frac{2}{3} \times \frac{4}{5} = \frac{2 \times 4}{3 \times 5} = \frac{8}{15}$
Quotient :	$\frac{\frac{a}{b}}{\frac{c}{d}} = \frac{a}{b} \times \frac{d}{c}$	$\frac{\frac{2}{3}}{\frac{7}{5}} = \frac{2}{3} \times \frac{5}{7} = \frac{10}{21}$

### Exercice

Effectuer les calculs suivants :

$$\frac{3}{5} + \frac{2}{5} - \frac{1}{5} \quad 3 \times \frac{2}{5} \quad \frac{2}{3} \times \frac{5}{7} \quad \frac{1}{2} + \frac{2}{3} \quad \frac{4}{5} - \frac{3}{4} \quad 2 - \frac{2}{3}$$
$$\frac{4x}{3} + \frac{1}{3}x \quad 2x + \frac{x}{2} \quad \frac{x}{2} - \frac{x}{3} \quad \frac{2x}{3} \times \frac{x}{5} \quad \frac{x-1}{2} - \frac{x+1}{5} \quad \frac{1}{2x} + \frac{1}{3x}$$

### Exercice

Simplifier les fractions suivantes :

$$\frac{21}{12} \quad \frac{1/2}{1/3} \quad \frac{2x}{x^3} \quad \frac{3x^3}{x^2} \quad \frac{x^2 - x}{2x} \quad \frac{x^2 + x}{x^2} \quad \frac{x^2 - 1}{x - 1} \quad \frac{1}{x - 2} - \frac{1}{x + 2}$$

## 6 Inégalités

### Définition 6.1

On dit qu'un réel  $a$  est strictement positif si  $a$  est un réel positif et  $a$  est non nul. On note  $a > 0$ .

On dit que  $a$  est positif (ou positif ou nul) si  $a$  un réel positif éventuellement nul. On note  $a \geq 0$ .

On dit qu'un réel  $a$  est strictement supérieur à un réel  $b$ , et on note  $a > b$  si  $a - b$  est strictement positif :

$$a > b \iff a - b > 0$$

On dit qu'un réel  $a$  est supérieur à un réel  $b$ , et on note  $a \geq b$  si  $a - b$  est positif :

$$a \geq b \iff a - b \geq 0$$

### Remarque

Cette définition se généralise de manière naturelle à (strictement) négatif et (strictement) inférieur.

### Proposition 6.2

L'inégalité est transitive :

$$a < b \text{ et } b < c \implies a < c$$

On ne change pas une inégalité en ajoutant un même nombre aux deux membres :

$$a > b \implies a + c > b + c$$

On ne change pas une inégalité en multipliant les deux membres par un réel **strictement positif** :

$$a > b \implies ac > bc \quad \forall c > 0$$

Une inégalité est inversée si on multiplie les deux membres par un réel **strictement négatif** :

$$a > b \implies ac < bc \quad \forall c < 0$$

On peut additionner deux inégalités :

$$\left. \begin{array}{l} a > b \\ c > d \end{array} \right\} \implies a + c > b + d$$

### Remarque

Ces propriétés restent valables pour les inégalités larges ( $\geq$ ).



### Exercice

Vérifier sur un exemple (en prenant des valeurs particulières de  $a, b, c$  et  $d$ ) chacune de ces propriétés.

### Exercice

En utilisant les propriétés ci-dessus, déterminer les valeurs de  $x$  qui vérifient l'inégalité

$$5x - 6 \geq x + 2$$

### Remarque

Si  $a$  et  $b$  sont deux nombres réels **strictement positifs**, on inverse le sens de l'inégalité en prenant l'inverse de chaque membre :

$$a < b \implies \frac{1}{a} > \frac{1}{b}$$

Par exemple,

$$2 < 3 \implies \frac{1}{2} > \frac{1}{3}$$

### Signe d'une expression

En mathématiques, on est souvent amené à déterminer le signe d'une expression selon les valeurs d'une variable  $x$ . Par exemple

$$3x - 6 > 0 \iff x > 2$$

Les identités remarquables sont souvent utiles dans cette recherche :

$$x^2 - 2x + 2 = (x^2 - 2x + 1) + 1 = (x - 1)^2 + 1 > 0 \quad \forall x \in \mathbb{R}$$

Pour les expressions plus complexes, il est nécessaire de les **factoriser** et d'utiliser un **tableau de signes** :

$$x^2 - 4 = (x - 2)(x + 2) \quad \text{et} \quad \begin{cases} x - 2 > 0 \iff x > 2 \\ x + 2 > 0 \iff x > -2 \end{cases}$$

On construit alors le tableau de signes :

$x$	$-\infty$	$-2$	$+2$	$+\infty$	
$x - 2$	-		0	+	
$x + 2$	-	0	+	+	
$(x - 2)(x + 2)$	+	0	-	0	+

On en déduit que  $x^2 - 4 > 0$  lorsque  $x \in ]-\infty, -2[ \cup ]2, +\infty[$ .

### Exercice

Etudier le signe de

$$\frac{1}{x + 1} + \frac{1}{x - 1}$$

## 7 Intervalles

### Définition 7.1

Soit  $a$  et  $b$  deux réels avec  $a < b$ .

On note  $]a, b[$  l'intervalle ouvert de  $a$  à  $b$ . Il s'agit des réels strictement compris entre  $a$  et  $b$  :

$$]a, b[ = \{x \in \mathbb{R} : a < x < b\}$$

On note  $[a, b]$  l'intervalle fermé de  $a$  à  $b$ . Il s'agit des réels compris (au sens large) entre  $a$  et  $b$  :

$$[a, b] = \{x \in \mathbb{R} : a \leq x \leq b\}$$

On note  $[a, b[$  l'intervalle semi-ouvert à droite (ou semi-fermé à gauche) de  $a$  à  $b$ . Il s'agit des réels compris entre (au sens large)  $a$  et (au sens strict)  $b$  :

$$[a, b[ = \{x \in \mathbb{R} : a \leq x < b\}$$

On note  $]a, b]$  l'intervalle semi-ouvert à gauche (ou semi-fermé à droite) de  $a$  à  $b$ . Il s'agit des réels compris entre (au sens strict)  $a$  et (au sens large)  $b$  :

$$]a, b] = \{x \in \mathbb{R} : a < x \leq b\}$$

Finalement, les intervalles  $]-\infty, a]$  et  $]b, +\infty[$  désignent tous réels inférieurs ou égaux à  $a$  et supérieur strictement à  $b$  :

$$]-\infty, a] = \{x \in \mathbb{R} : x \leq a\} \quad ]b, +\infty[ = \{x \in \mathbb{R} : x > b\}$$

### Exercice

Classer par ordre croissant (au sens de l'inclusion) les intervalles suivants :

$$[1, 3] \quad ]1, 3[ \quad [1, +\infty[ \quad [1, 3[$$

### Remarque

Il est souvent préférable d'écrire les sous-ensembles de réels sous la forme d'intervalles (ou d'unions d'intervalles) :

$$\mathbb{R}_+ = [0, +\infty[ \quad \mathbb{R}^* = ]-\infty, 0[ \cup ]0, +\infty[$$

### Exercice

Ecrire sous forme d'intervalles les ensembles  $\mathbb{R}_-$  et  $\mathbb{R}_+^*$ .

## 8 Valeur absolue

### Définition 8.1

La **valeur absolue** d'un nombre réel  $x$  est la valeur numérique du nombre  $x$  sans tenir compte de son signe. On la note  $|x|$ . On peut la définir plus précisément par

$$|x| = \begin{cases} x & \text{si } x \geq 0 \\ -x & \text{si } x < 0 \end{cases}$$

### Remarque

Attention, la présence d'un signe moins devant une expression ne signifie pas systématiquement que le résultat est négatif, cela dépend du signe de l'expression :

$$-3 \leq 0 \quad -(-5) = +5 \geq 0 \quad (3 - 5) = -2 \leq 0 \quad -(4 - 7) = +3 \geq 0$$

### Exemple

$$|3| = 3 \quad |-5| = 5 \quad |-x| = |x| \quad |x^2| = x^2$$

### Exercice

Quelle est la valeur absolue de  $\sqrt{x^2}$  ? et de  $x - 1$  ?

## 9 Equations à une inconnue

### Exemple

On souhaite déterminer le nombre de kilos de pommes de terre qu'on peut acheter avec 10 € lorsque le kilo vaut 2.50 €. Bien que ce problème soit trivial, il est facile de le modéliser : si on note  $x$  le nombre de kilos achetés, la dépense sera donc de  $x \times 2.5$ . Comme on souhaite acheter pour 10 € de pommes de terre, on cherche à déterminer  $x$  de sorte que la dépense soit égale à 10, soit  $x \times 2.5 = 10$ . On a donc

$$x \times 2.5 = 10 \iff x = \frac{10}{2.5} \iff x = 4$$

Il est donc possible d'acheter 4 kilos de pommes de terre.

Dans cet exemple, nous avons modélisé le problème par une **équation** (une égalité)  $2.5x = 10$ . L'objectif étant de déterminer la quantité recherchée, notée  $x$ , et appelée **inconnue**.

### Définition 9.1

Une équation est une égalité entre deux expressions dépendant d'inconnues notées habituellement  $x, y, \dots$ . Résoudre l'équation consiste à déterminer **toutes** les valeurs des inconnues qui rendent cette égalité vraie.

Pour résoudre une équation *simple*, une méthode consiste à transformer successivement l'équation de départ en des équations équivalentes, jusqu'à obtenir un égalité du type  $x = \text{cst}$ .

### Proposition 9.2

On ne change pas les solutions d'une équation (on dit que les équations sont **équivalentes**) :

- en additionnant (ou en soustrayant) le même nombre aux deux membres ;
- en multipliant (ou en divisant) les deux membres par le même nombre **non nul**.

### Exemple

Soit l'équation

$$2x - 3 = 5$$

On ajoute 3 aux deux membres de l'équation (pour faire *disparaître* le  $-3$  à gauche) :

$$2x - 3 \boxed{+3} = 5 \boxed{+3} \iff 2x = 8$$

On divise alors les deux membres de l'équation par 2 (pour faire *disparaître* le 2 devant le  $x$ ) :

$$\boxed{\frac{1}{2}} \times 2x = \boxed{\frac{1}{2}} \times 8 \iff x = 4$$

### Exercice

Résoudre les équations suivantes :

$$5 - 2x = 1 \quad \frac{1}{2}x - 2 = 2 \quad 3x - 3 = 1 - x \quad 2x - (5 + x) = 16 - (3x + 9) \quad \frac{1}{2x + 1} = \frac{1}{x + 2}$$

### Remarque

Une fois la solution trouvée, il est **in-dis-pen-sa-ble** de vérifier son résultat en remplaçant la solution dans l'équation initiale !

### Exercice

Résoudre les équations suivantes

$$\frac{x - 3}{x + 3} = \frac{x - 4}{x + 4} \quad \sqrt{2x + 6} = 4 \quad \frac{3}{x - 3} - \frac{2}{x + 3} = \frac{9}{x^2 - 9}$$

Pour des équations plus complexes, il est souvent utile de se ramener à un produit ou un quotient puis d'utiliser la proposition suivante :

#### Proposition 9.3

Soit  $a$  et  $b$  deux réels. On a

$$a \times b = 0 \iff a = 0 \text{ ou } b = 0$$

et, à condition que  $b \neq 0$ ,

$$\frac{a}{b} = 0 \iff a = 0$$

### Exemple

Soit l'équation  $(x - 2)(x + 1) = 0$ . On a

$$(x - 2)(x + 1) = 0 \iff x - 2 = 0 \text{ ou } x + 1 = 0 \iff x = 2 \text{ ou } x = -1$$

L'équation admet donc deux solutions :  $x = -1$  et  $x = 2$ .

### Exemple

Résoudre les équations

$$x^2 - 3x = 0 \quad \frac{x - 2}{x + 1} = 0 \quad x^2 = 81 \quad (x - 3)^2 = 9$$

## 10 Equations du second degré

#### Proposition 10.1

Pour  $a \neq 0$ , on considère l'équation du second degré

$$ax^2 + bx + c = 0 \quad (E)$$

On note  $\Delta$  le discriminant associé à l'équation précédente :

$$\Delta = b^2 - 4ac$$

### Proposition 10.1 (cont)

Si  $\Delta > 0$ , l'équation (E) admet deux solutions :

$$x_1 = \frac{-b - \sqrt{\Delta}}{2a} \quad x_2 = \frac{-b + \sqrt{\Delta}}{2a}$$

Si  $\Delta = 0$ , l'équation (E) admet une unique solution (double) :

$$x_1 = x_2 = \frac{-b}{2a}$$

Si  $\Delta < 0$ , l'équation (E) n'admet pas de solution (réelle).

### Remarque

Lorsque l'équation (E) admet des solutions  $x_1$  et  $x_2$ , éventuellement égales, on a la factorisation :

$$ax^2 + bx + c = a(x - x_1)(x - x_2)$$

### Exemple

L'équation  $x^2 + x - 2 = 0$  admet pour discriminant  $\Delta = 1^2 - 4 \times 1 \times (-2) = 9 > 0$ . Cette équation admet donc deux solutions :

$$x_1 = \frac{-1 - \sqrt{9}}{2} = -2 \quad x_2 = \frac{-1 + \sqrt{9}}{2} = +1$$

Et on a

$$x^2 + x - 2 = (x + 2)(x - 1)$$

### Exercice

Déterminer les solutions des équations suivantes :

$$\begin{array}{lll} 2x^2 + 5x - 3 = 0 & 9x^2 + 6x + 1 = 0 & 5x^2 - 2x + 2 = 0 \\ 3x^2 + 2x - 1 = x^2 - 3x + 2 & x^3 - 2x^2 + x = 0 & x^2 = 25 \end{array}$$

### Exercice

Déterminer le signe de l'expression  $x^2 + x - 6$  en fonction de  $x$ .

## 11 Systèmes de deux équations linéaires à deux inconnues

L'objectif est de résoudre un système d'équations du type

$$\begin{cases} ax + by = c \\ dx + ey = f \end{cases}$$

où  $x$  et  $y$  sont les inconnues à déterminer.

### Méthode de substitution

Cette méthode consiste à utiliser la première équation pour exprimer  $y$  en fonction de  $x$  puis à remplacer  $y$  par son expression en  $x$  dans la seconde équation, de manière à se ramener à une équation à une seule inconnue facile à résoudre.

### Exemple

Soit à résoudre

$$(S) \begin{cases} 2x + y = 3 \\ 3x - y = 7 \end{cases}$$

La première équation permet d'écrire  $y = 3 - 2x$ . En remplaçant dans la seconde, on obtient  $3x - (3 - 2x) = 7$  soit  $5x - 3 = 7$  soit  $x = 2$ . En utilisant  $y = 3 - 2x$ , on trouve  $y = -1$ . Il est préférable de rédiger sous forme de systèmes équivalents :

$$\begin{aligned} \begin{cases} 2x + y = 3 \\ 3x - y = 7 \end{cases} &\iff \begin{cases} y = 3 - 2x \\ 3x - y = 7 \end{cases} &\iff \begin{cases} y = 3 - 2x \\ 3x - (3 - 2x) = 7 \end{cases} &\iff \begin{cases} y = 3 - 2x \\ 5x - 3 = 7 \end{cases} \\ &\iff \begin{cases} y = 3 - 2x \\ 5x = 10 \end{cases} &\iff \begin{cases} y = 3 - 2x \\ x = 2 \end{cases} &\iff \begin{cases} y = -1 \\ x = 2 \end{cases} \end{aligned}$$

Le système (S) admet donc comme unique solution  $(x, y) = (2, -1)$ .

### Exercice

Résoudre le système  $\begin{cases} 5x + 2y = 3 \\ 2x + 3y = -1 \end{cases}$

### Autre méthode

Une autre méthode de résolution consiste à éliminer une des variables d'une équation en additionnant un multiple de l'autre équation.

### Exemple

Reprenons le précédent système

$$(S) \begin{cases} 2x + y = 3 & (1) \\ 3x - y = 7 & (2) \end{cases}$$

En ajoutant l'équation (2) à l'équation (1), la variable  $y$  disparaît :

$$\begin{cases} 2x + y = 3 & (1) \\ 3x - y = 7 & (2) \end{cases} \iff \begin{cases} 5x = 10 & (1) + (2) \\ 3x - y = 7 & (2) \end{cases} \iff \begin{cases} x = 2 \\ y = 3x - 7 \end{cases} \iff \begin{cases} x = 2 \\ y = -1 \end{cases}$$

On retrouve bien sûr l'unique solution  $(x, y) = (2, -1)$ .

### Exercice

Résoudre le système  $\begin{cases} 2x + 3y = 3 \\ 6x + 6y = -1 \end{cases}$

# Fonctions réelles

## 1 Fonction réelle d'une variable réelle

### Exemple

Le coût unitaire de production d'un bien est de 3 € auquel s'ajoute un coût fixe de 10 € (indépendant de la quantité produite). Pour produire  $x$  unités, le coût total sera donc de  $3x + 10$ . On définit ainsi une *relation* qui à toute quantité  $x$  associe son coût de production  $3x + 10$ . Cette relation est appelée **fonction** et est souvent notée  $f$ . On peut alors écrire  $f(x) = 3x + 10$ . Pour tout réel  $x$  positif (toute quantité), le réel  $f(x)$  représente le coût total de production. On note souvent

$$\begin{aligned} f : \mathbb{R}_+ &\longrightarrow \mathbb{R} \\ x &\longmapsto 3x + 10 \end{aligned}$$

### Définition 1.1

Une **fonction** (réelle)  $f$  d'une variable réelle  $x$  est une règle qui associe un réel noté  $f(x)$  à tout nombre réel  $x$  d'un ensemble  $D \subset \mathbb{R}$ . On note :

$$\begin{aligned} f : D &\longrightarrow \mathbb{R} \\ x &\longmapsto f(x) \end{aligned}$$

L'ensemble  $D$  (parfois noté  $D_f$ ) est appelé **domaine de définition** de  $f$ . L'ensemble des valeurs  $f(x)$  lorsque  $x$  prend toutes les valeurs de  $D$  est appelé (**ensemble**) **image** de  $f$ , parfois noté  $\text{Im}(f)$  ou  $f(D)$ .

### Remarque

Habituellement, une fonction est donnée par l'expression de  $f(x)$ . Son domaine de définition est l'ensemble des valeurs de  $x$  pour lesquelles il est possible de calculer  $f(x)$ .

### Exemple

Soit la fonction  $f$  définie par  $f(x) = \frac{1}{x-1}$ . La valeur  $f(x)$  est définie lorsque le dénominateur est non-nul, donc  $x - 1 \neq 0$ , soit  $x \neq 1$ . Le domaine de définition est donc  $D_f = \mathbb{R} \setminus \{1\} = ]-\infty, 1[ \cup ]1, +\infty[$ .

### Exercice

Déterminer le domaine de définition des fonctions suivantes :

$$f(x) = \frac{1}{x^2} \quad g(x) = \sqrt{x+2} \quad h(x) = \frac{x}{1+x^2} \quad i(x) = \frac{1}{x^2-1} \quad j(x) = \frac{\sqrt{2x+2}}{x-2}$$

### Proposition 1.2

On appelle **graphe** de  $f$  l'ensemble des points de coordonnées  $(x, f(x))$ , où  $x$  appartient au domaine de définition de  $f$ . Ces points sont représentés dans une repère cartésien  $(O, x, y)$ .

### Remarque

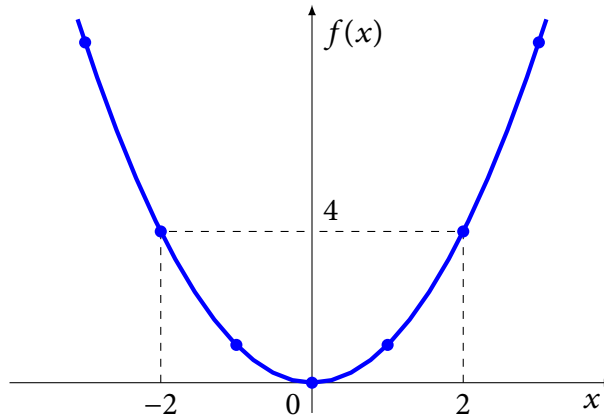
Une méthode basique pour représenter graphiquement une fonction consiste à calculer un certain nombre de couples  $(x, f(x))$  pour des valeurs de  $x$  bien choisies, puis à représenter ces points dans un repère orthonormé, et finalement à joindre ces points de manière *lisse*.

### Exemple

Soit  $f(x) = x^2$ . On souhaite représenter cette fonction sur le domaine  $[-3, 3]$ . Pour cela, on construit le tableau de valeurs :

$x$	-3	-2	-1	0	1	2	3
$f(x)$	9	4	1	0	1	4	9

On représente ensuite chaque point dans le repère, puis on trace une courbe *lisse* passant par ces points.



### Exercice

Représenter graphiquement les fonctions  $f(x) = x^3$  et  $g(x) = 1/x$ .

## 2 Fonctions affines

### Définition 2.1

Une **fonction affine** d'une variable réelle  $x$  est une fonction de la forme

$$f(x) = ax + b$$

où  $a$  et  $b$  sont deux constantes réelles. Le domaine de définition d'une fonction affine est toujours  $\mathbb{R}$ .

### Proposition 2.2

La représentation graphique d'une fonction affine  $f(x) = ax + b$  est une droite de  **pente**  (ou coefficient directeur)  $a$  et passant par le point  $(0, b)$ . On dit que  $b$  est l'**ordonnée à l'origine**.

### Exercice

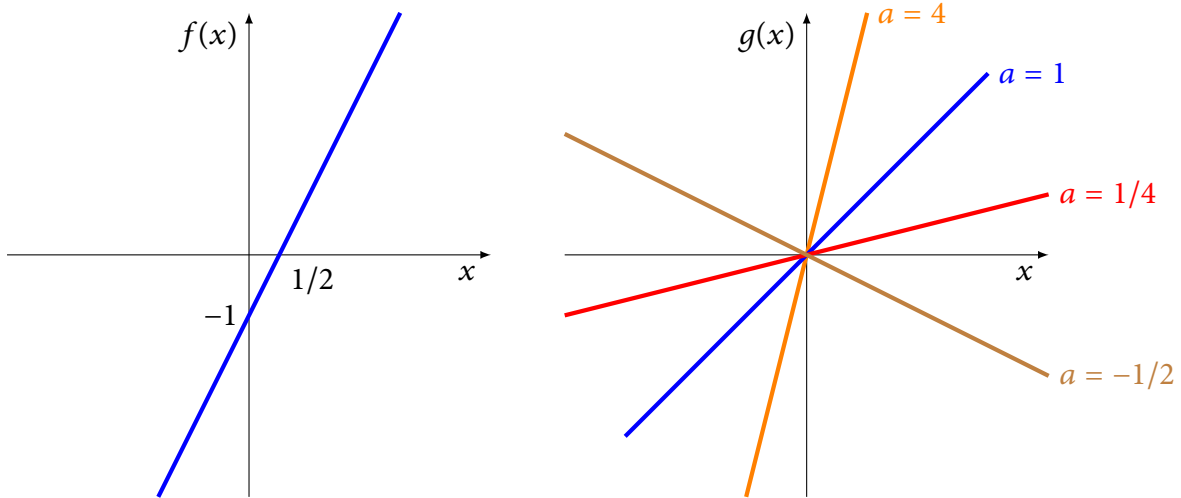
Déterminer la pente et l'ordonnée à l'origine des fonctions affines suivantes

$$f(x) = \frac{x}{2} + 3 \quad g(x) = 2 - x \quad h(x) = \frac{-1}{3}x \quad i(x) = 5$$



### Exemples

Le premier graphique représente la fonction  $f(x) = 2x - 1$ . Le second  $g(x) = ax$  (donc avec  $b = 0$ ) pour plusieurs valeurs de  $a$ .



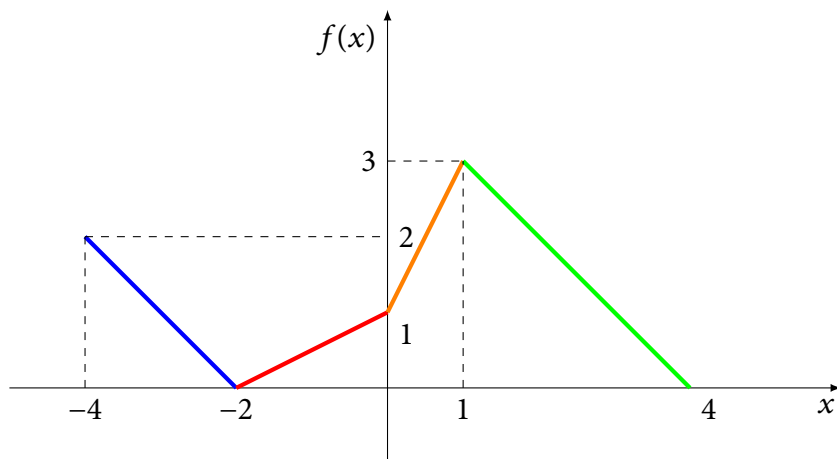
### Proposition 2.3

Soit  $f(x) = ax + b$  une fonction affine dont la représentation graphique est une droite passant par les points  $(x_1, y_1)$  et  $(x_2, y_2)$ . Alors on a

$$a = \frac{y_2 - y_1}{x_2 - x_1} \quad \text{et} \quad b = y_1 - ax_1$$

### Exercice

Déterminer graphiquement le coefficient directeur de chaque segment du graphique ci-dessous.



### Exercice

Déterminer la fonction dont la représentation graphique est la droite passant par  $(0, 3)$  et  $(2, 11)$

### 3 Limites et continuité

#### Définition 3.1

Soit  $f : [a, b] \rightarrow \mathbb{R}$  une fonction et  $x_0 \in ]a, b[$ . On dit que  $f$  admet  $\ell$  pour **limite** lorsque  $x$  tend vers  $x_0$  si  $f(x)$  est aussi proche de  $\ell$  que l'on veut, dès que  $x$  est suffisamment proche de  $x_0$ . On note  $\lim_{x \rightarrow x_0} f(x) = \ell$ .

#### Remarque

Intuitivement, cela veut dire que la valeur  $f(x)$  se rapproche de  $\ell$  lorsque  $x$  se rapproche de  $x_0$ .

#### Exemple

Soit  $f(x) = x^2$  et  $x_0 = 2$ . On a

$x$	1.9	1.99	1.999	$x$	2.1	2.01	2.001
$f(x)$	3.61	3.96	3.99	$f(x)$	4.41	4.04	4.004

On voit donc que  $f(x)$  se rapproche de 4 lorsque  $x$  se rapproche de 2. Donc  $\lim_{x \rightarrow 2} f(x) = 4$ . On peut remarquer ici que  $4 = f(2)$ . Cela signifie que la fonction  $f$  est continue en  $x_0 = 2$ . (voir plus loin).

#### Définition 3.2

Soit  $f : ]a, b] \rightarrow \mathbb{R}$  une fonction **non définie** en  $a$ . On dit que  $f$  admet  $+\infty$  pour **limite** lorsque  $x$  tend vers  $a$  si  $f(x)$  est aussi grand que l'on veut, dès que  $x$  est suffisamment proche de  $a$ . On note  $\lim_{x \rightarrow a} f(x) = +\infty$ .

#### Remarque

Intuitivement, cela veut dire que la valeur  $f(x)$  est de plus en plus grande lorsque  $x$  se rapproche de  $a$ .

#### Exemple

Soit  $f(x) = 1/x$  définie sur l'intervalle  $]0, +\infty[$ . On a

$x$	0.1	0.01	0.001	0.0001
$f(x)$	10	100	1000	10000

On voit donc que  $f(x)$  prend des valeurs de plus en plus grandes lorsque  $x$  se rapproche de 0. On a donc  $\lim_{x \rightarrow 0} f(x) = +\infty$ .

Si on considère à présent que la fonction  $f$  est définie sur l'intervalle  $]-\infty, 0[$ , on a

$x$	-0.1	-0.01	-0.001	-0.0001
$f(x)$	-10	-100	-1000	-10000

On voit donc que  $f(x)$  prend des valeurs de plus en plus grandes (négativement) lorsque  $x$  se rapproche de 0. On a donc  $\lim_{x \rightarrow 0} f(x) = -\infty$ .

La première limite est appelée **limite à droite** (car on étudie les valeurs plus grandes, donc à droite, que 0) alors que la seconde est appelée **limite à gauche**. On a les notations plus précises suivantes :

$$\lim_{x \rightarrow 0^+} f(x) = +\infty \quad \lim_{x \rightarrow 0^-} f(x) = -\infty$$

#### Définition 3.3

Soit  $f : [a, +\infty[ \rightarrow \mathbb{R}$  une fonction. On dit que  $f$  admet  $\ell$  pour **limite** lorsque  $x$  tend vers  $+\infty$  si  $f(x)$  est aussi proche de  $\ell$  que l'on veut, dès que  $x$  est suffisamment grand. On note  $\lim_{x \rightarrow +\infty} f(x) = \ell$ .

### Remarque

Intuitivement, cela veut dire que la valeur  $f(x)$  se rapproche de  $\ell$  lorsque  $x$  est suffisamment grand.

### Exemple

Soit  $f(x) = 1/x$  définie sur  $]0, +\infty[$ . On a

$x$	100	1000	10000	100000
$f(x)$	0.01	0.001	0.0001	0.00001

On voit donc que  $f(x)$  se rapproche de 0 lorsque  $x$  est de plus en plus grand. On a donc  $\lim_{x \rightarrow +\infty} f(x) = 0$ .

### Définition 3.4

Soit  $f : [a, +\infty[ \rightarrow \mathbb{R}$  une fonction. On dit que  $f$  admet  $+\infty$  pour **limite** lorsque  $x$  tend vers  $+\infty$  si  $f(x)$  est aussi grand que l'on veut, dès que  $x$  est suffisamment grand. On note  $\lim_{x \rightarrow +\infty} f(x) = +\infty$ .

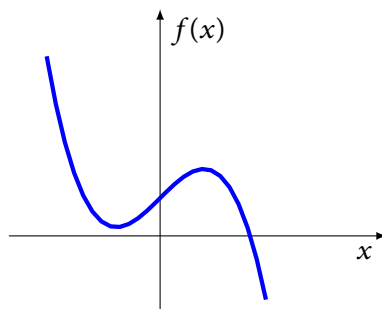
### Définition 3.5

Soit  $f : [a, b] \rightarrow \mathbb{R}$  une fonction et  $x_0 \in ]a, b[$ . On dit que  $f$  est **continue** en  $x_0$  si  $f$  admet une limite finie quand  $x$  tend vers  $x_0$  et si cette limite est égale à  $f(x_0)$ . C'est-à-dire,

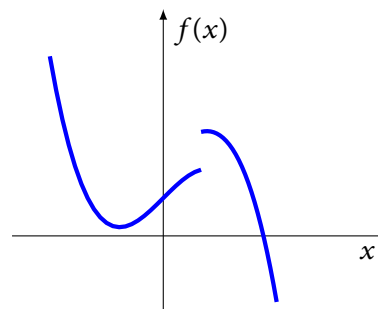
$$f \text{ continue en } x_0 \iff \lim_{x \rightarrow x_0} f(x) = f(x_0)$$

### Remarques

1. On dit que  $f$  est continue sur un intervalle  $]a, b[$  si  $f$  est continue en tout point  $x_0$  de  $]a, b[$ .
2. Le graphe d'une fonction continue sur un intervalle est sans « cassure ». On peut le tracer « sans lever le crayon ».



Fonction continue



Fonction non continue

### Exemple

Les fonctions usuelles sont continues sur leur domaine de définition. En particulier, les polynômes  $P(x) = a + bx + cx^2 + \dots + dx^n$  sont des fonctions continues sur  $\mathbb{R}$ . Les fonctions rationnelles  $\frac{P(x)}{Q(x)}$  sont continues sur leur domaine de définition. La fonction racine  $\sqrt{x}$  est continue sur  $\mathbb{R}_+$ .

### Exercice

Etudier la continuité des deux fonctions suivantes en  $x = 0$ .

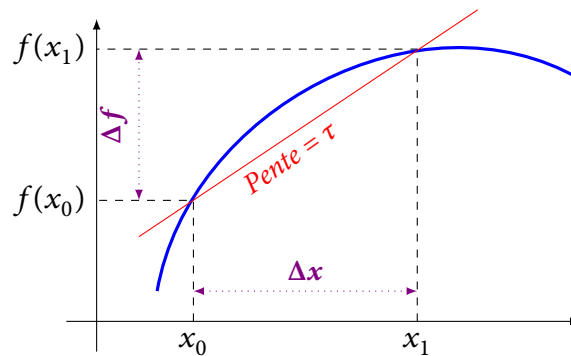
$$f(x) = \begin{cases} 2x + 1 & \text{si } x < 0 \\ 1 - 3x & \text{si } x \geq 0 \end{cases} \quad g(x) = \begin{cases} \frac{1}{x^2} & \text{si } x \neq 0 \\ 0 & \text{si } x = 0 \end{cases}$$

## 4 Dérivée d'une fonction

### Définition 4.1

Soit une fonction  $f : [a, b] \rightarrow \mathbb{R}$  et  $x_0, x_1 \in [a, b]$ . On appelle **taux de variation (ou d'accroissement)** de  $f$  entre  $x_0$  et  $x_1$  le rapport

$$\tau = \frac{f(x_1) - f(x_0)}{x_1 - x_0} = \frac{\Delta f}{\Delta x}$$



### Exemple

Le taux de variation d'une fonction affine  $f(x) = ax + b$  est constant et est égal à  $a$  :

$$\tau = \frac{f(x_1) - f(x_0)}{x_1 - x_0} = \frac{(ax_1 + b) - (ax_0 + b)}{x_1 - x_0} = \frac{a(x_1 - x_0)}{x_1 - x_0} = a$$

### Exercice

Calculer le taux de variation de la fonction  $f(x) = x^2$  lorsque  $x$  varie de 0 à 2, puis de  $-2$  à 2 puis de  $-2$  à 1.

### Remarque

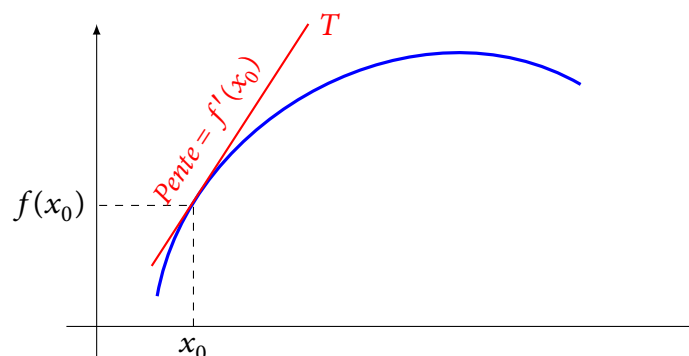
Lorsque, dans la définition précédente, on fait tendre  $x_1$  vers  $x_0$ , le taux de variation tend vers une limite, correspondant à la pente de la tangente  $T$ , appelée dérivée de  $f$  en  $x_0$ .

### Définition 4.2

Soit une fonction  $f : [a, b] \rightarrow \mathbb{R}$ . On appelle **dérivée** de  $f$  en  $x_0 \in ]a, b[$  le réel défini par

$$f'(x_0) = \lim_{x \rightarrow x_0} \frac{f(x) - f(x_0)}{x - x_0}$$

si cette limite existe et est finie. On dit alors que  $f$  est **dérivable** en  $x_0$ .



### Remarque

On dit que  $f$  est **dérivable** sur  $]a, b[$  si elle est dérivable en tout point  $x_0$  de  $]a, b[$ . On appelle alors **fonction dérivée** de  $f$  l'application  $f'$  qui à tout  $x \in ]a, b[$  associe  $f'(x)$ .

### Proposition 4.3

Si la fonction  $f$  est dérivable en  $x_0$  alors sa courbe représentative admet au point de coordonnées  $(x_0, f(x_0))$  une **tangente** de coefficient directeur  $f'(x_0)$  et d'équation

$$y = f(x_0) + f'(x_0)(x - x_0)$$

### Exemple

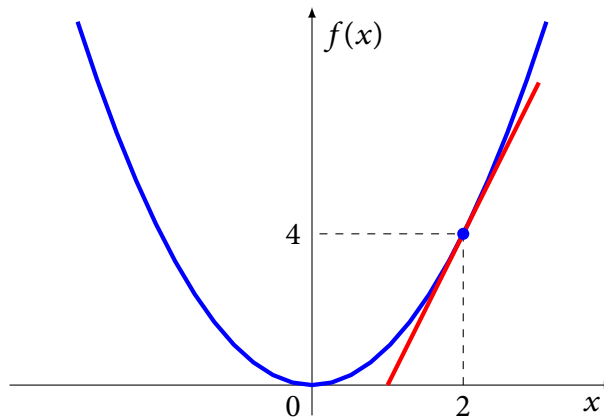
Soit  $f(x) = x^2$ . Calculons la dérivée de  $f$  en  $x_0 = 2$  :

$$\lim_{x \rightarrow x_0} \frac{f(x) - f(x_0)}{x - x_0} = \lim_{x \rightarrow 2} \frac{x^2 - 2^2}{x - 2} = \lim_{x \rightarrow 2} \frac{(x - 2)(x + 2)}{x - 2} = \lim_{x \rightarrow 2} (x + 2) = 4 = f'(2)$$

L'équation de la tangente au point  $(2, f(2)) = (2, 4)$  est

$$y = f(x_0) + f'(x_0)(x - x_0) \implies y = 4 + 4(x - 2) = 4x - 4$$

C'est la droite (rouge) passant par le point  $(x_0, f(x_0)) = (2, 4)$  et, par exemple,  $(1, 4 \times 1 - 4) = (1, 0)$ .



### Exercice

D'après ce qui précède, quelle est la dérivée d'une fonction affine  $f(x) = ax + b$ ?

### Remarque

La dérivée  $f'$  d'une fonction  $f$  est parfois notée  $\frac{df}{dx}$ .

## 5 Calcul de dérivées

### Proposition 5.1

Les fonctions usuelles sont dérivables sur leur domaine de définition. En particulier,

- les fonctions polynômes sont dérivables sur  $\mathbb{R}$ ;
- les fonctions rationnelles sont dérivables sur leur domaine de définition;
- la fonction racine  $\sqrt{x}$  est dérivable sur  $\mathbb{R}_+^*$ .

## Dérivées des fonctions usuelles

Pour  $a, b, c \in \mathbb{R}$  et  $n \in \mathbb{N}^*$ , on a

$f(x)$	$c$	$ax + b$	$x^n$	$\frac{1}{x}$	$\frac{1}{x^n}$	$\sqrt{x}$	$\frac{1}{\sqrt{x}}$	$e^x$	$\ln x$
$f'(x)$	$0$	$a$	$nx^{n-1}$	$-\frac{1}{x^2}$	$-\frac{n}{x^{n+1}}$	$\frac{1}{2\sqrt{x}}$	$-\frac{1}{2\sqrt{x^3}}$	$e^x$	$\frac{1}{x}$

### Remarque

Plus généralement, pour  $\alpha \in \mathbb{R}$ , on a

$$(x^\alpha)' = \alpha x^{\alpha-1}$$

### Exercice

Calculer la dérivée des fonctions suivantes :

$$3 - \frac{1}{3}x \quad x^7 \quad \frac{1}{x^2} \quad x^{-3} \quad \sqrt[3]{x} \quad \sqrt{x^3}$$

### Proposition 5.2

La dérivation est linéaire : soit  $u$  et  $v$  deux fonctions dérivables et  $a \in \mathbb{R}$ . On a

$$(u + v)' = u' + v' \quad (au)' = au'$$

### Exercice

Calculer la dérivée des fonctions suivantes :

$$3x^3 - 2x + 1 \quad \frac{-2}{x} \quad \sqrt{4x}$$

### Proposition 5.3 (Dérivée d'un produit et d'un quotient)

Soit  $u$  et  $v$  deux fonctions dérivables. On a

$$(uv)' = u'v + uv' \quad \left(\frac{u}{v}\right)' = \frac{u'v - uv'}{v^2} \quad \left(\frac{1}{u}\right)' = -\frac{u'}{u^2}$$

### Exemples

#### Produit

$$[x^2(x^3 - x)]' = [x^2]'(x^3 - x) + x^2[(x^3 - x)]' = 2x(x^3 - x) + x^2(3x^2 - 1) = \dots = 5x^4 - 3x^2$$

Sur cet exemple, il était bien sûr plus simple de faire le produit avant de dériver !

$$[x^2(x^3 - x)]' = [x^5 - x^3]' = 5x^4 - 3x^2$$

#### Quotient

$$\left[\frac{x^2}{x-1}\right]' = \frac{[x^2]'(x-1) - x^2[x-1]'}{(x-1)^2} = \frac{2x(x-1) - x^2}{(x-1)^2} = \frac{x^2 - 2x}{(x-1)^2}$$

### Exercice

Calculer la dérivée des fonctions suivantes :

$$x\sqrt{x} \quad (x^2 - 1)(2x + 3) \quad \frac{x^2 - 3}{x} \quad \frac{2x}{x^2 + 3}$$

### Proposition 5.4 (Dérivée de la composée de deux fonctions)

Soit  $v$  et  $u$  deux fonctions dérivables. Alors on a

$$\left[ v(u(x)) \right]' = v'(u(x)) \times u'(x)$$

### Exemple

En appliquant la formule précédente aux fonctions  $v$  usuelles, on obtient le tableau suivant :

$f(x)$	$u^n$	$\frac{1}{u}$	$\frac{1}{u^n}$	$\sqrt{u}$	$\frac{1}{\sqrt{u}}$	$e^u$	$\ln u$
$f'(x)$	$nu'u^{n-1}$	$\frac{-u'}{u^2}$	$\frac{-nu'}{u^{n+1}}$	$\frac{u'}{2\sqrt{u}}$	$\frac{-u'}{2\sqrt{u}^3}$	$u' e^u$	$\frac{u'}{u}$

### Exemple

Soit  $f(x) = \sqrt{x^2 + 1}$ . En utilisant les notations de la proposition précédente, on a  $f(x) = v(u(x))$  où  $u(x) = x^2 + 1$  et  $v(x) = \sqrt{x}$ . Donc  $u'(x) = 2x$  et  $v'(x) = \frac{1}{2\sqrt{x}}$ . En appliquant la formule, on obtient donc

$$f'(x) = v'(u(x)) \times u'(x) = \frac{1}{2\sqrt{u(x)}} \times (2x) = \frac{x}{\sqrt{x^2 + 1}}$$

### Exercice

Calculer les dérivées des fonctions suivantes :

$$(1 + 2x)^2 \quad (2x^2 - 3)^3 \quad \frac{1}{x^4 + 4} \quad \sqrt{4x - 1}$$

## 6 Variations

On a vu que la dérivée d'une fonction en un point était la limite du taux de variation de la fonction. Elle peut être interprétée comme un taux de variation *instantané*. Elle est ainsi utilisée pour déterminer les variations de la fonction.

### Définition 6.1

Soit une fonction  $f : [a, b] \rightarrow \mathbb{R}$ . On dit que la fonction  $f$  est

- **croissante** sur l'intervalle  $[a, b]$  si

$$\forall x, y \in [a, b] \quad x \leq y \implies f(x) \leq f(y)$$

### Définition 6.1 (cont)

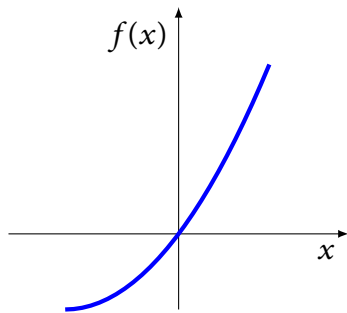
- **décroissante** sur l'intervalle  $[a, b]$  si

$$\forall x, y \in [a, b] \quad x \leq y \implies f(x) \geq f(y)$$

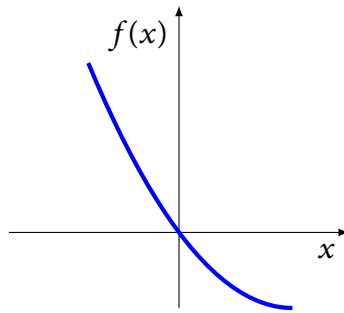
- **constante** sur l'intervalle  $[a, b]$  si

$$\forall x, y \in [a, b] \quad f(x) = f(y)$$

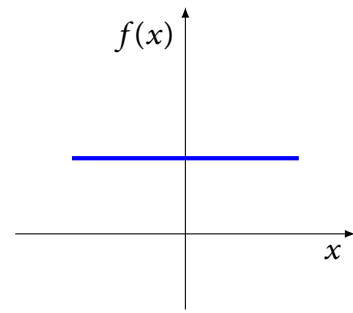
### Exemple



Fonction croissante



Fonction décroissante



Fonction constante

### Remarques

1. L'étude des variations d'une fonction (croissance, décroissance) n'a de sens que sur un intervalle.
2. Dans la définition précédente, on peut remplacer l'intervalle fermé  $[a, b]$  par un intervalle ouvert ou semi-ouvert.
3. Lorsque les inégalités sont strictes, on dit que la fonction est strictement croissante (ou décroissante).

### Exemple

La fonction  $f(x) = ax + b$  est croissante sur  $\mathbb{R}$  lorsque  $a > 0$ , décroissante lorsque  $a < 0$  et constante lorsque  $a = 0$ .

### Définition 6.2

Soit une fonction  $f : ]a, b[ \longrightarrow \mathbb{R}$ .

- Si  $f'(x) > 0$  pour tout  $x$  dans  $]a, b[$ , alors la fonction  $f$  est strictement croissante sur  $]a, b[$ .
- Si  $f'(x) < 0$  pour tout  $x$  dans  $]a, b[$ , alors la fonction  $f$  est strictement décroissante sur  $]a, b[$ .
- Si  $f'(x) = 0$  pour tout  $x$  dans  $]a, b[$ , alors la fonction  $f$  est constante sur  $]a, b[$ .

### Remarque

Lorsque la dérivée est positive ou nulle (resp. négative ou nulle) la fonction  $f$  est seulement croissante (resp. décroissante).

### Exemple

La fonction  $f(x) = x^3$  définie sur  $\mathbb{R}$  admet pour dérivée  $f'(x) = 3x^2$ . Comme  $f'(x) \geq 0$  pour tout  $x$ , on en déduit que  $f$  est une fonction croissante sur  $\mathbb{R}$ .



### Exercice

Étudier la croissance des fonctions suivantes :

$$3x^5 \quad \sqrt{x+1} \quad \frac{1}{x}$$

## 7 Etude d'une fonction

L'étude d'une fonction consiste à déterminer tous les éléments nécessaires pour représenter graphiquement une fonction sans recourir à un tableau de valeurs.

### Exemple

Dans la suite, on se propose d'étudier la fonction  $f(x) = x^4 - 8x^2 + 1$ .

### Domaine de définition

On détermine le domaine de définition pour pouvoir connaître les intervalles sur lesquels on pourra étudier la fonction.

### Exemple

La fonction  $f(x)$  est une fonction polynôme. Elle est donc définie sur  $\mathbb{R}$ . On pourra donc étudier ses variations sur  $\mathbb{R}$ .

### Calcul de la dérivée

Afin de pouvoir étudier les variations de  $f$ , il est nécessaire de calculer sa dérivée. Attention à ne pas faire d'erreur dans ce calcul !

### Exemple

La dérivée de la fonction  $f$  est  $f'(x) = 4x^3 - 16x$

### Etude du signe de la dérivée

Pour déterminer le signe de la dérivée, on détermine les valeurs de  $x$  telles que  $f'(x) = 0$ . Le signe de la dérivée entre les valeurs où elle s'annule sera indiqué dans le tableau de variations.

### Exemple

$$f'(x) = 0 \iff 4x^3 - 16x = 0 \iff 4x(x^2 - 4) = 0 \iff 4x(x-2)(x+2) = 0 \iff \begin{cases} x = 0 & \text{ou} \\ x = 2 & \text{ou} \\ x = -2 \end{cases}$$

### Tableau de variations

La première ligne du tableau de variations représente les valeurs de  $x$ . On y précise les valeurs interdites (exclues du domaine de définition) par une double barre, ainsi que les valeurs qui annulent la dérivée déterminées précédemment.

La seconde ligne représente le signe de la dérivée (et les valeurs où elle est nulle). Entre deux valeurs nulles, la dérivée conserve un signe constant. Pour le déterminer, il suffit de calculer la dérivée en un point de l'intervalle.

La troisième ligne représente les variations de la fonction  $f$ . Lorsque la dérivée est positive, la fonction est croissante (on utilise une flèche montante). Lorsque la dérivée est négative, la fonction est décroissante (on utilise une flèche descendante).

En chaque point où la dérivée s'annule, on calcule la valeur correspondante de  $f(x)$ .

Finalement, on indique les limites de la fonction aux bornes du ou des intervalles.

### Exemple

Le tableau de variations de  $f(x)$  est

$x$	$-\infty$	$-2$	$0$	$+2$	$+\infty$
$f'$	$-$	$0$	$+$	$-$	$+$
$f$	$+\infty$	$-15$	$1$	$-15$	$+\infty$

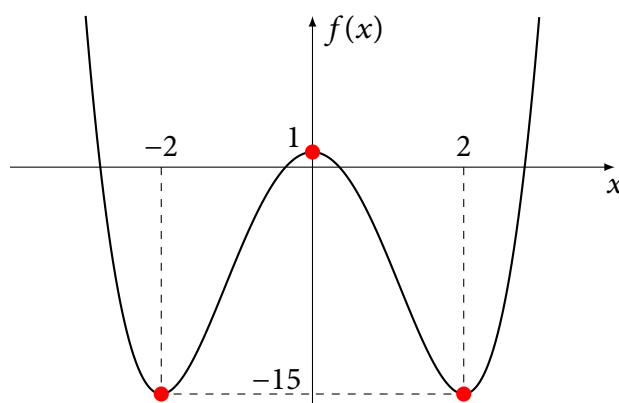
### Graphie

Le tableau de variations précédent permet de représenter l'allure du graphe de  $f$  sans nécessiter aucune autre information.

Dans un repère, on représente les points (valeurs de  $x$  et de  $f(x)$ ) indiqué dans le tableau de variations. Puis on trace une courbe passant par ces points, en tenant compte des sens de variation et des limites indiqués dans le tableau de variation.

### Exemple

On en déduit l'allure du graphe de  $f$  :



### Exercice

En utilisant les différentes étapes indiquées ci-dessus, étudier la fonction

$$f(x) = \frac{x^2 + 1}{x}$$

## 8 Fonction logarithme

Contrairement à la plupart des fonctions usuelles, la fonction logarithme est définie à partir de sa dérivée (on parle alors de « primitive »).

### Définition 8.1

La fonction **logarithme népérien**, notée  $\ln$ , est l'unique fonction définie et dérivable sur  $]0, +\infty[$  telle que

$$[\ln(x)]' = \frac{1}{x} \quad \text{et} \quad \ln(1) = 0$$

### Remarque

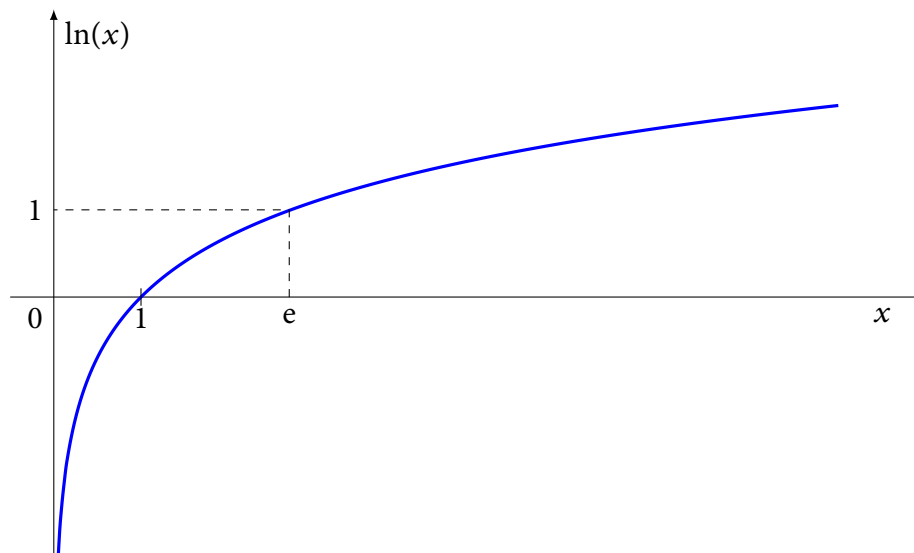
Par définition, on a donc  $D_{\ln} = ]0, +\infty[$ ,  $\ln(1) = 0$  et  $\ln'(x) = 1/x$ . Attention  $\ln(0)$  n'est pas défini !

### Proposition 8.2

La fonction logarithme possède les propriétés suivantes :

- $\ln(xy) = \ln(x) + \ln(y)$
- $\ln\left(\frac{x}{y}\right) = \ln(x) - \ln(y)$
- $\ln\left(\frac{1}{x}\right) = -\ln(x)$
- $\ln(x^\alpha) = \alpha \ln(x)$  pour  $\alpha \in \mathbb{R}$
- $\ln(x)$  est croissante sur  $]0, +\infty[$
- $\lim_{x \rightarrow 0^+} \ln(x) = -\infty$
- $\lim_{x \rightarrow +\infty} \ln(x) = +\infty$
- $\ln(e) = 1$  où  $e \approx 2.718$

### Représentation graphique



### Exercice

Construire le tableau de variations de la fonction  $\ln(x)$ .

## 9 Fonction exponentielle

La fonction exponentielle est définie comme la fonction *réciproque* de la fonction logarithme.

### Définition 9.1

La fonction exponentielle, notée  $\exp(x)$  ou  $e^x$ , est l'unique fonction définie sur  $\mathbb{R}$  telle que

$$y = \exp(x) \iff x = \ln(y)$$

### Remarque

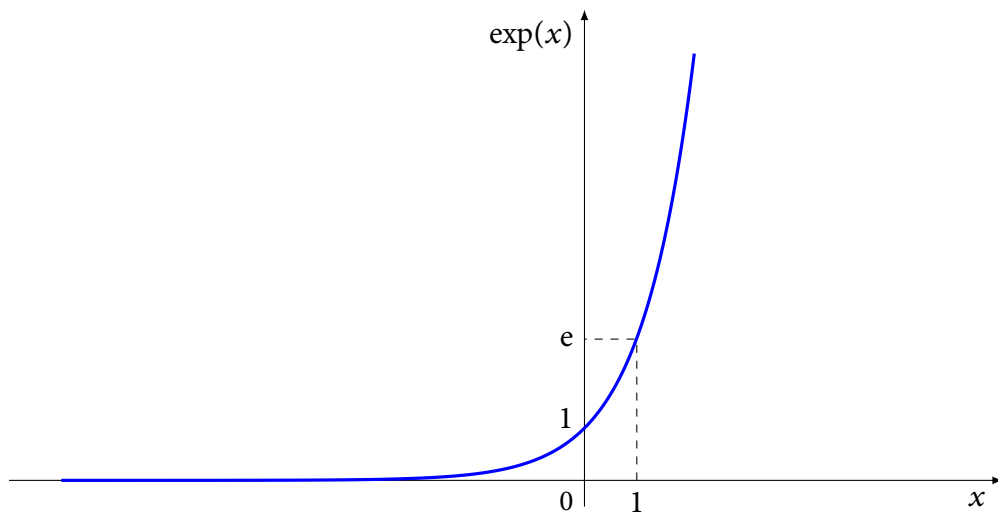
Par définition  $D_{\exp} = \mathbb{R}$  et  $\exp(x) > 0$  pour tout  $x \in \mathbb{R}$ .

### Proposition 9.2

La fonction exponentielle possède les propriétés suivantes :

- $e^{x+y} = e^x \times e^y$
- $e^{x-y} = \frac{e^x}{e^y}$
- $e^{-x} = \frac{1}{e^x}$
- $e^{\alpha x} = (e^x)^\alpha$
- $(e^x)' = e^x$
- $e^x$  est croissante sur  $\mathbb{R}$
- $\lim_{x \rightarrow -\infty} e^x = 0$
- $\lim_{x \rightarrow +\infty} e^x = +\infty$
- $e^0 = 1$  et  $e^1 = e$

### Représentation graphique



### Exercice

Construire le tableau de variations de la fonction  $\exp(x)$ .